

Guía N°12: Retroalimentación 1° básico A-B Matemáticas

Aspectos positivos

Estimados estudiantes de 1°básico:

Junto con saludarlos, los queremos felicitar por sus respuestas en el ticket de salida N°11. El 88% de los alumnos respondió de forma correcta la pregunta 1, el 94% respondió correctamente la pregunta 2 y el 100% respondió correctamente la pregunta 3. Esto nos indica que están haciendo sus tareas en el hogar y se están esforzando por aprender.

Por lo tanto para el **OA6**: “Componer y descomponer números del 0 a 20 de manera aditiva, en forma concreta, pictórica y simbólica”.

Se han logrado los siguientes indicadores:

- Representan composiciones y descomposiciones de números de manera pictórica.
- Componen y descomponen cantidades hasta 10 de manera simbólica.

Sabemos que estudiar y repasar las tareas escolares desde el hogar ha sido un trabajo complejo para ustedes y sus familias, pero pese a ello confiamos en ustedes como estudiantes y sabemos que se esforzaron día a día por estudiar y responder al quehacer escolar de forma semanal.

Se despiden con cariños sus profesoras María Elena Moya y Carmen Gloria Avello.

Aspectos por mejorar

A continuación, se muestran los pasos que debían seguir los alumnos para responder el ticket:

- 1) Observa las imágenes de cada pregunta.
- 2) Escucha las instrucciones que te leerá un adulto con mucha atención.
- 3) Cuenta los objetos o bien observa los números de cada actividad.
- 4) Lee los conceptos de componer y descomponer cantidades.
- 5) Responde la pregunta de selección múltiple de tu Ticket de salida.

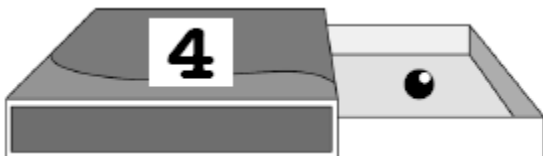
Pregunta 1: Dentro de la caja hay 6 bolitas, puedo ver 3 ¿cuántas bolitas hay en la parte que no se ve de la caja?



- a) 6 b) 9 c) 3

La respuesta correcta es 3, ya que la caja me indica que tengo 6 bolitas en total y si veo 3, necesito 3 bolitas para completar 6.

Pregunta 2: ¿Cuál es la representación correcta de esta descomposición? Recuerda que hay bolitas que no ves dentro de la caja.



- a) $4 + 1 = 4$ b) $3 + 1 = 4$ c) $4 + 1 = 5$

En la caja me dice que al interior hay 4 bolitas. Si puedo ver 1, quiere decir que hay 3 bolitas que no puedo ver y que completan el total. La respuesta correcta es $3 + 1 = 4$

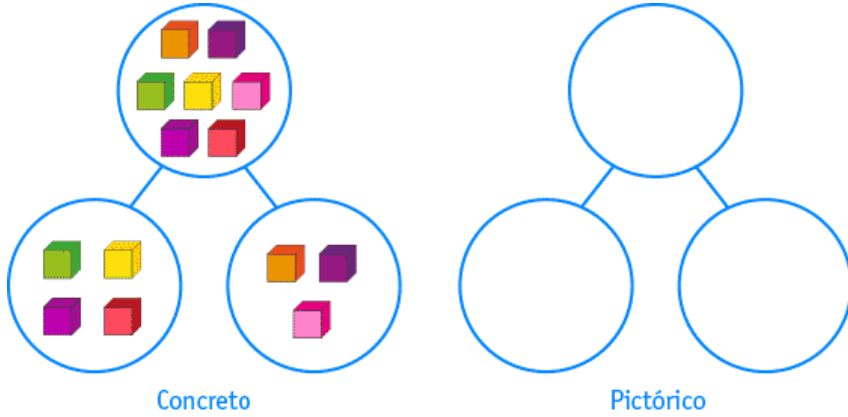
Pregunta 3: ¡Felicitaciones! Seguiste los pasos y respondiste de manera correcta.

Pasar a la re-enseñanza

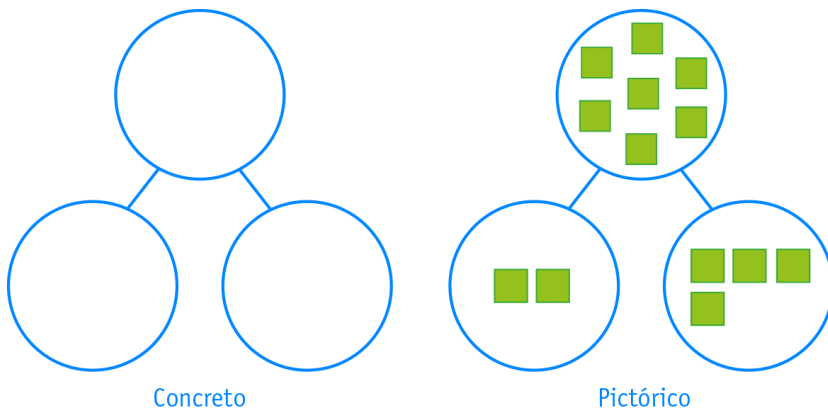
Estimados estudiantes:

Los invitamos a desarrollar las siguientes actividades de refuerzo.

1. Registre de manera pictórica descomposiciones hechas con material concreto. Por ejemplo, las descomposiciones siguientes hechas con cubos:

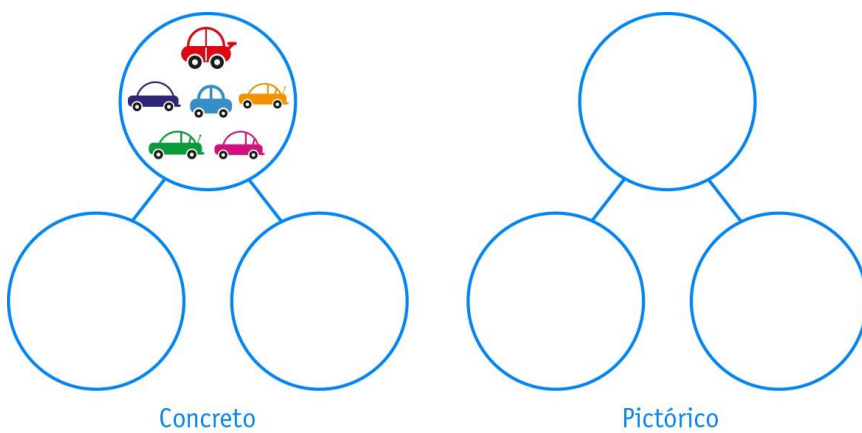


2. Realice de manera concreta la descomposición que está representada en forma pictórica.

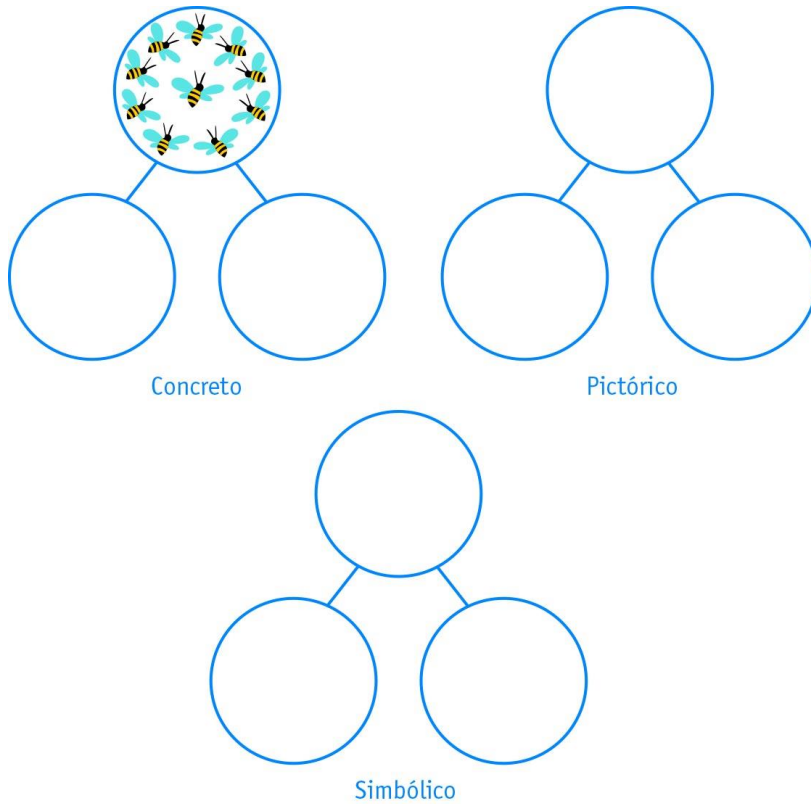


3. Descomponga en los círculos:

- a) Observe que hay 6 autos en el círculo de arriba. Descompóngalos en forma concreta y pictórica:



4. Descomponga de manera concreta, luego de manera pictórica, y por último de manera simbólica.



Reportar cumplimiento

El plazo para resolver los ejercicios de re-enseñanza es desde el viernes 26 de junio hasta el viernes 03 de julio a las 22:00 horas.

Al igual que las tareas, debes sacarle una foto a los ejercicios y envíala por mail a tu profesora correspondiente.

Profesora 1°B Carmen Gloria Avello:
carmen.avello@colegio-eduardodegeyter.cl

Profesora 1°A Maria Elena Moya:
mariaelena.moya@colegio-eduardodegeyter.cl

Despedida y cierre

Queridos estudiantes de 1° básico:

Estamos seguras que podrán resolver de buena forma las actividades de re-enseñanza. Confíen en sus conocimientos y sean perseverantes cuando algo no entiendan.

Mucho Éxito.