







Modificaremos esta actividad de la siguiente manera: En el lugar que te encuentras sentado, anotarás qué o quién está delante de ti, qué hay a tu izquierda, derecha y detrás de ti.

1

Siéntate mirando la pizarra y completa.

	¿Quién está delante de mí?	
¿Quién está a mi izquierda?	Aquí estoy yo	¿Quién está a mi derecha?
	¿Quién está detrás de mí?	

2

	detrás			
	Ema 	Juan 	Pedro 	
izquierda	María 	Pablo 	Rita 	derecha
	delante			

Observa y completa con las palabras: detrás, delante, derecha o izquierda.	María está a la de Pablo.
Rita está de Pedro.	Ema está de María.
Juan está de Pablo.	A la izquierda de Juan está

3

- Dibuja un árbol a la izquierda de Juan y a la derecha de María.
- Dibuja una pelota delante de Juan.
- Dibuja una hoja arriba cayendo entre María y Juan.
- Dibuja un perro detrás de María.



1

¿Qué formas geométricas puedes ver en las figuras siguientes?



2

¿Qué forma tiene la puerta de la sala de clases?
Dibuja una puerta en tu cuaderno.

3

¿Qué forma tienen las monedas?
Dibuja una moneda en tu cuaderno.

4

Busca las formas geométricas que aparecen en la figura.




5

Busca las formas geométricas que aparecen en la figura.



6

Dibuja en tu cuaderno las figuras siguientes, utilizando los cuadraditos.




7

Dibuja en tu cuaderno una casita, utilizando algunas de las figuras que acabas de dibujar.

8

Dibuja la figura siguiente, usando las figuras que dibujaste en la Actividad 6.



9

Divide la figura en formas cuadradas, rectangulares, triangulares y circulares, y cópiala en tu cuaderno.

