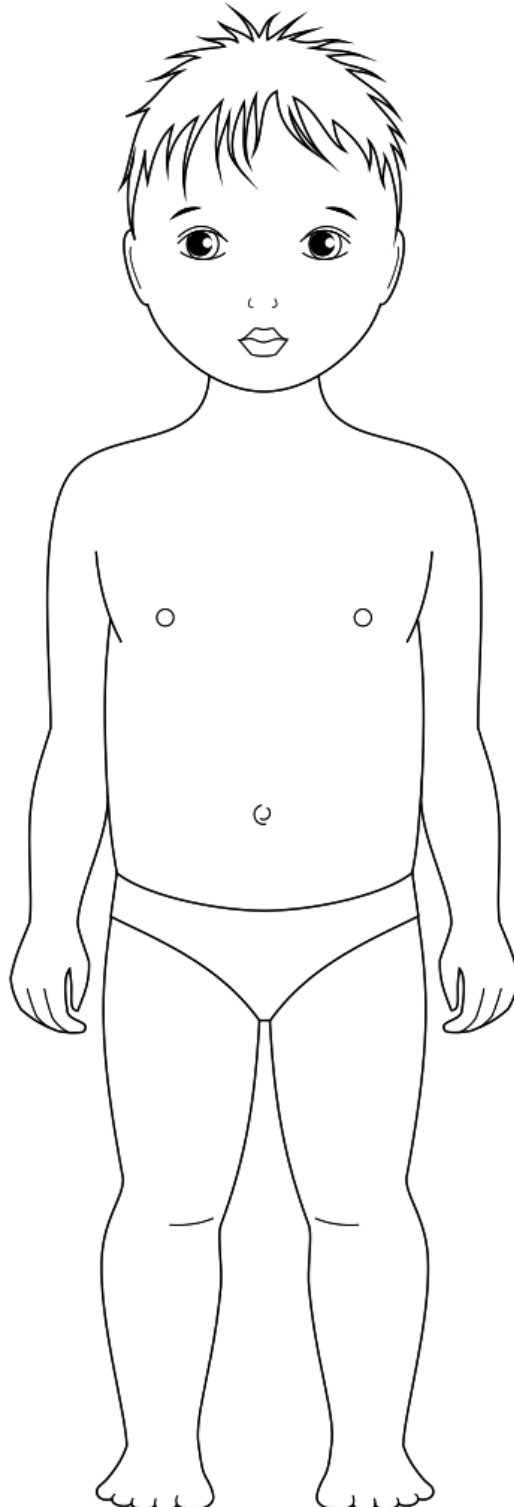




“Guía de Trabajo N°1” CIENCIAS NATURALES Unidad 1: ¿Cómo funciona nuestro cuerpo?

Nombre:	Fecha:	Curso: 2º _____
----------------	---------------	---------------------------

1. Une cada parte del cuerpo con su nombre.



Tórax

Abdomen

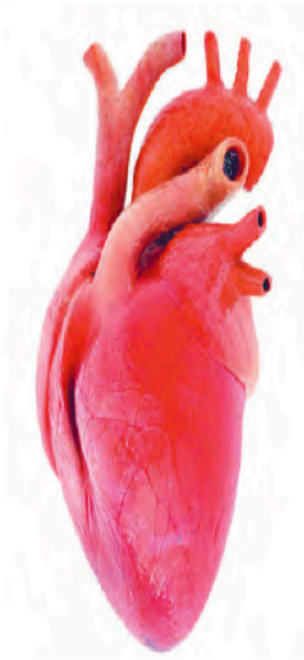
Cabeza

Piernas

Brazos

Rostro

2. Observa el video en el siguiente link <https://www.youtube.com/watch?v=KYUQ-kySe2E> y une el órgano con su función principal.



○ Permiten el ingreso de aire al organismo.

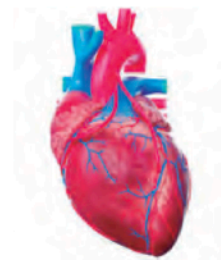


○ Permite que el alimento se transforme en pequeñas sustancias.



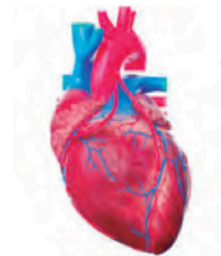
○ Bombea sangre a cada parte del cuerpo.

3. Escribe el nombre de cada órgano, según corresponda.

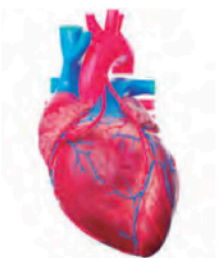


4. Encierra la alternativa correcta.

a. ¿Qué órgano está encargado de bombear sangre a todo el cuerpo?



b. ¿Qué órgano está encargado de transformar el alimento en sustancias pequeñas?



5. Dibuja la parte que más te gustó del video.