



“Guía de Trabajo Nº13” CIENCIAS NATURALES Unidad 2: Vertebrados


Nombre:	Fecha de entrega: Lunes 13 de julio	Curso: 2º _____
----------------	---	---------------------------

I. Observa cada grupo de animales y luego de comentar junto a un adulto, marca con una X qué animal no pertenece a ese grupo.

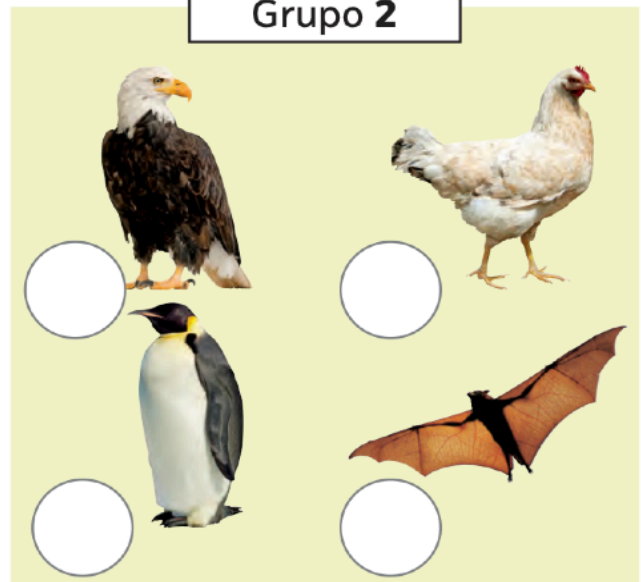
El animal extraño

Observa los siguientes grupos de animales y marca el que no pertenece en cada caso.


Grupo 1




Grupo 2




Grupo 3



Grupo 4



II. Según el video, ¿cuáles de estos animales son mamíferos? Dibújalos en tu cuaderno y escribe su nombre debajo.



III. Responde en tu cuaderno.

- a. Nombre del ave
- b. Forma en que se desplaza. (vuela, corre, nada)

