







<b>Nombre Docente:</b> Ida Neira Neira – Claudia Mallegas Roblin			
<b>Curso:</b>	2 Año Básico A y B		
Guía número	Asignatura	Objetivo de Aprendizaje contemplado	Indicador
12	Matemáticas	OA 1 Contar números del 0 al 1000 de 2 en 2, de 5 en 5, de 10 en 10 y de 100 en 100, hacia adelante y hacia atrás, empezando por cualquier número menor que 1000	Cuentan monedas hasta \$500 pesos con monedas de \$5, \$10, \$50 y \$100.

### Guía de trabajo Matemática

CUADRO DE INSTRUCCIONES
<p>Observa las imágenes y cuenta el valor... luego responde el cuestionario online.</p> <p>2ºA <a href="https://forms.gle/yropddkZeYnmLiUc7">https://forms.gle/yropddkZeYnmLiUc7</a></p> <p>2ºB <a href="https://forms.gle/HkVsrbKX2fdUmAju9">https://forms.gle/HkVsrbKX2fdUmAju9</a></p>

GUIÓN METODOLÓGICO
<p>¿Cuánto vale cada conjunto de monedas?</p>
<div style="display: flex; flex-wrap: wrap; justify-content: space-around;"> <div style="border: 1px solid gray; padding: 5px; margin: 5px;"> <p>1. </p> <p style="text-align: right;">\$ _____</p> </div> <div style="border: 1px solid gray; padding: 5px; margin: 5px;"> <p>2. </p> <p style="text-align: right;">\$ _____</p> </div> <div style="border: 1px solid gray; padding: 5px; margin: 5px;"> <p>3. </p> <p style="text-align: right;">\$ _____</p> </div> <div style="border: 1px solid gray; padding: 5px; margin: 5px;"> <p>4. </p> <p style="text-align: right;">\$ _____</p> </div> <div style="border: 1px solid gray; padding: 5px; margin: 5px;"> <p>5. </p> <p style="text-align: right;">\$ _____</p> </div> <div style="border: 1px solid gray; padding: 5px; margin: 5px;"> <p>6. </p> <p style="text-align: right;">\$ _____</p> </div> </div>

