



## “Guía de Trabajo N°3” MATEMÁTICA

<b>Nombre:</b>	<b>Fecha:</b>	<b>Curso:</b>
	<b>Viernes 03 abril</b>	<b>2º _____</b>


1. Escribe el número que corresponde.

Ochenta y uno	
Cuarenta y nueve	
El número tiene 3 decenas y 6 unidades	
El número que tiene 6 decenas y 3 unidades	
Cincuenta y ocho	
Setenta	
Veintiséis	

2. Completa las secuencias hacia adelante o atrás comenzando desde cualquier número.




3. Sin contar, adivina cuántos peces crees tú que hay en la pecera. Anótalo aquí



Ahora, cuenta los peces que hay en la pecera. ¿Acertaste?

 Sí No


4. Estima cuántos animales hay en cada recuadro y marca con una X la decena más cercana a tu estimación.



Alrededor de

 20


Alrededor de

 40

Alrededor de

 60

Alrededor de

 40

Alrededor de

 20

Alrededor de

 30

