

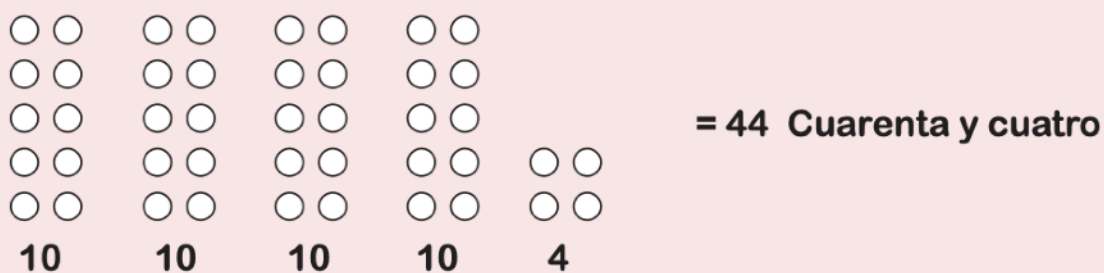
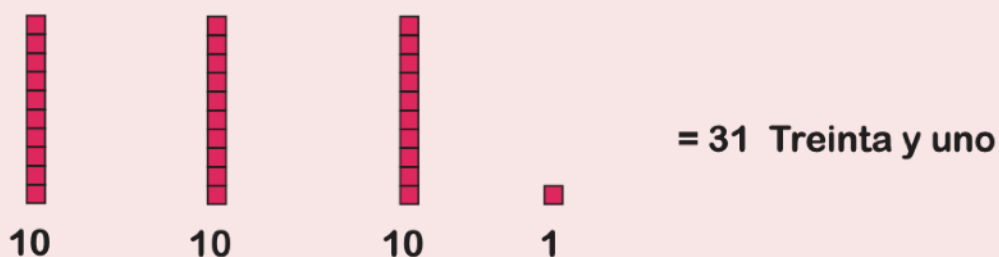


“Guía de Trabajo N°6” MATEMÁTICA


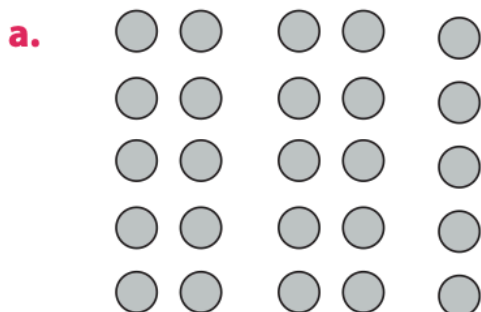
Nombre:	Fecha: Lunes 04 de mayo	Curso: 2º _____
Objetivo: Agrupar cantidades de 10 en 10, hasta el 50.		

Ejemplo:

Observa que puedes representar números formando grupos de 10:



1. Escribe cada cantidad en cifras y palabras.

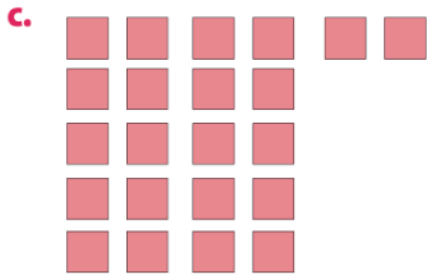


En cifras _____

En palabras _____

En cifras _____

En palabras _____



En cifras _____

En palabras _____



En cifras _____

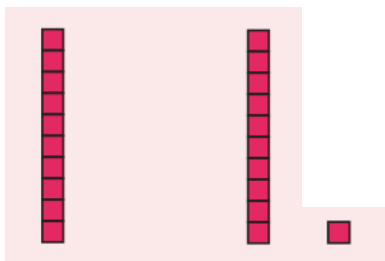
En palabras _____

2. Copia en tu cuaderno los número que aparecen a continuación. Luego dibuja grupos de 10 para representar las cantidades que copiaste y escribe el número en palabras.

Ejemplo:

Copio el número. 21

Dibujó grupos de 10 para representar



Escribo con palabras: "Veintiuno"

A) 31

B) 46

C) 50

D) 38