

## Retroalimentación educación a distancia 2020

Semana de trabajo: 03 al 07 agosto

Curso: 2ºA y B

Asignatura: Ciencias Naturales

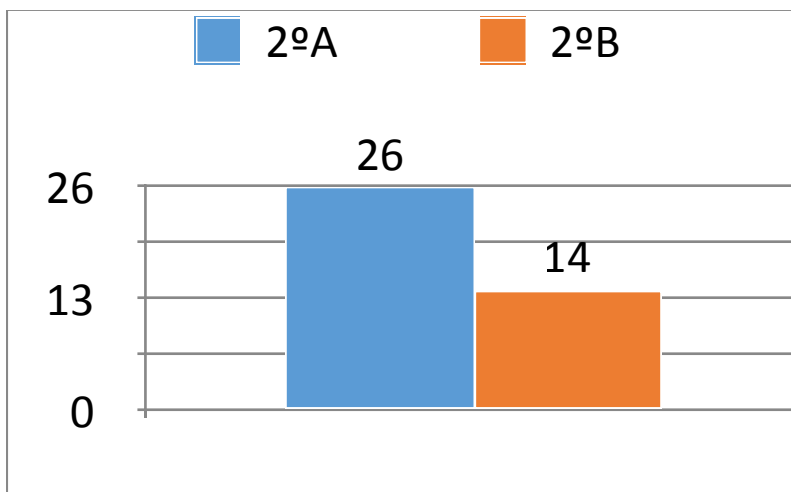
Docentes: Claudia Mallegas - Ida Neira

### Aspectos positivos

Estimados estudiantes de segundo básico:  
Quiero felicitarlos por el esfuerzo y responsabilidad con su trabajo escolar. En esta oportunidad revisaremos el ticket de salida de Matemática y así poder analizar algunos puntos que pueden presentar mayor dificultad.

### Aspectos por mejorar

En el ticket de salida Nº 14 se observó que de un total de 62 niños que pertenecen tanto al 2ºA como al 2ºB se obtuvo un total de respuestas de 40 respuestas en total, distribuidos de la siguiente manera:



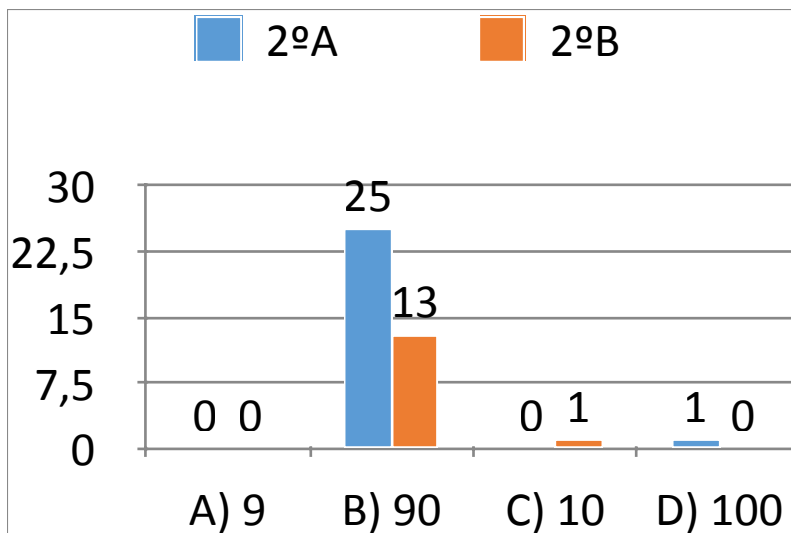
A continuación revisaremos cada una de las preguntas planteadas en la actividad para corroborar la información o aclarar algunas dudas.

En la pregunta Nº1 se planteaba la siguiente situación:

1. Manuel tiene 50 hojas de papel lustre y Matilde tiene 40. ¿Cuántas hojas de papel lustre tienen \* en total?



Las respuestas entregadas por ustedes, se pueden observar en el siguiente gráfico:

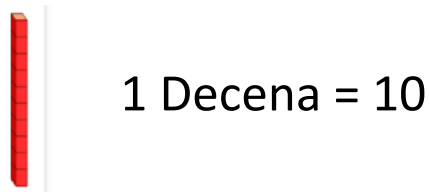


Si bien alrededor de un 94% de estudiantes eligió la respuesta correcta, el error conceptual que se puede ver es que 1 decena equivale a 10 unidades.



En las siguientes actividades se presentaba un ejercicio con números y los estudiantes debían reconocer cuál de las imágenes representaba dicho ejercicio.

Para resolver estos ejercicios es necesario tener en cuenta que:



### Re-enseñanza

Para reforzar estos contenidos, te invito a resolver las siguientes actividades:

1. En tu cuaderno de matemáticas haz la representación pictórica (dibujo) de los siguientes números, utilizando unidades y decenas:

a.

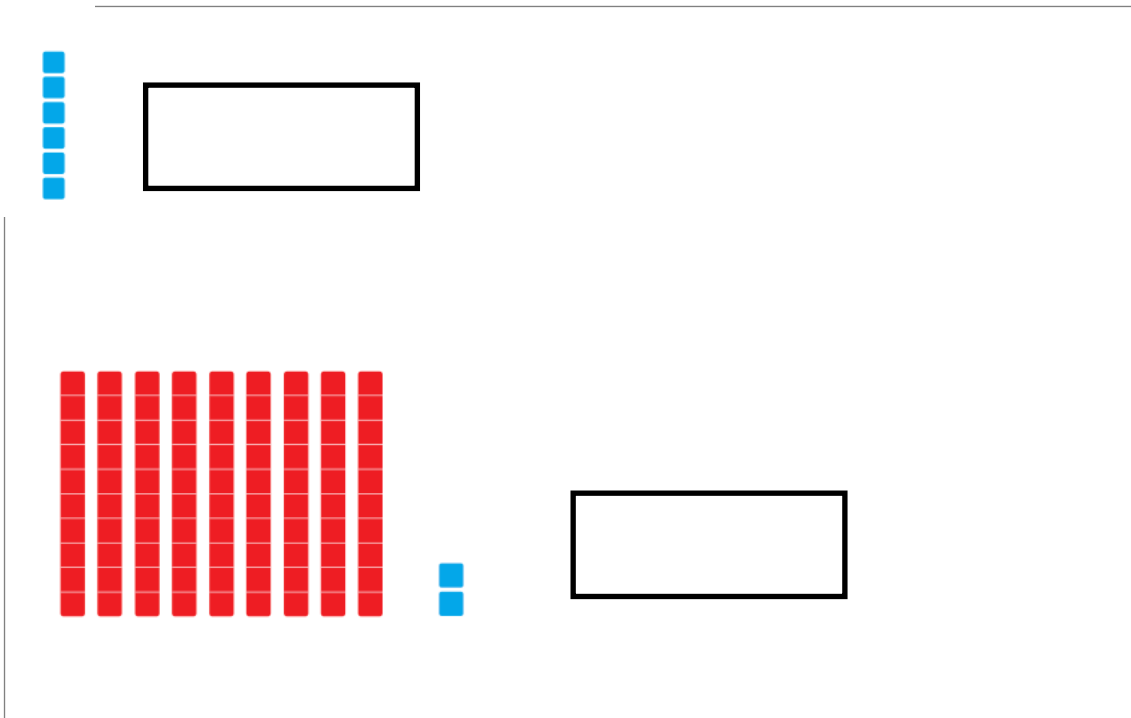


b.



2. Escribe la cantidad que corresponde a cada representación en el recuadro del lado derecho:





#### Reportar cumplimiento

Tienen plazo desde lunes 03 al viernes 07 de agosto a las 13:00 horas para enviar las respuestas del desafío.

Recuerda que al finalizar la tarea debes enviar una foto del trabajo por correo electrónico.

2°A: [ida.neira@colegio-eduardodegeyter.cl](mailto:ida.neira@colegio-eduardodegeyter.cl)

2°B: [claudia.mallegas@colegio-eduardodegeyter.cl](mailto:claudia.mallegas@colegio-eduardodegeyter.cl)

#### Despedida y cierre

Confío plenamente en sus capacidades, estoy en conocimiento del esfuerzo que han hecho por mejorar y sé que lo harán. Confíen en ustedes mismos y lograrán lo que se propongan, sigan con esa dedicación que han tenido en Matemática.  
¡Son los mejores!