

**Ticket de salida formato impreso**

**Curso:**

**Nombre estudiante:**

**Objetivo:**

OA\_8: Determinar las unidades y decenas en números del 0 al 20, agrupando de a 10, de manera concreta, pictórica y simbólica.

**Indicador de evaluación:**

- Agrupan una cantidad de objetos en decenas.
- Registran con números la cantidad de elementos de un conjunto que ha sido agrupado de a 10 y los elementos restantes.
- Registran de manera pictórica agrupaciones de a 10 y los elementos restantes.

**Preguntas de selección múltiple**

Selección múltiple

Lee las preguntas y marca la alternativa correcta

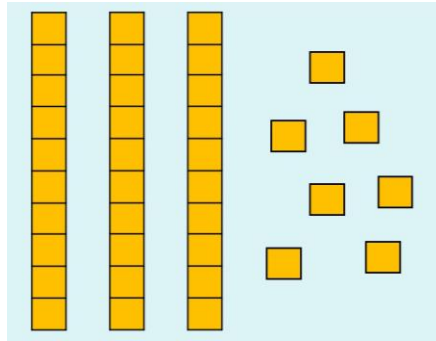
Observa la imagen

Decena	Unidad
2	5

1. ¿Qué valor tiene el número ubicado en la decena?

- A.) 2
- B.) 20
- C.) 50

Observa la imagen



2. ¿Qué número está representado en la imagen?


A.) 10

B.) 37


C.) 73

3. ¿Cómo se puede representar el número 29?

A.)



B.)



C.)

