

Ticket de salida formato impreso

Curso:

Nombre estudiante:

Objetivo:

OA 15: Describir, comparar y construir figuras 2D (triángulos, cuadrados, rectángulos y círculos) con material concreto.

Indicador de evaluación:

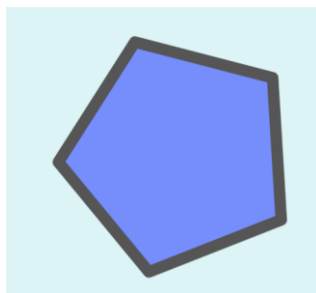
- Describen figuras 2D con sus propias palabras y determinan sus diferencias.

Preguntas de selección múltiple

Selección múltiple

Lee los problemas y responde las preguntas

1.) ¿Cuántos vértices tiene la siguiente figuras?




- A.) 5
- B.) 10
- C.) No tiene vértices

2.) ¿Cuántos lados tiene la siguiente figura?

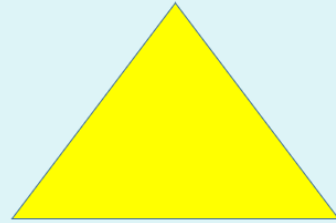


- A.) 6 lados
- B.) 8 lados
- C.) 16 lados

3.) ¿En qué se diferencian los vértices de ambas figuras?



Rectángulo



Triángulo
