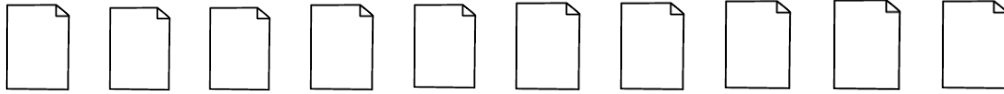


2. Resuelve los siguientes problemas.

a. Una maquina imprime 10 hojas en 1 día. ¿Cuántas hojas imprimirá en 6 días?



R. _____

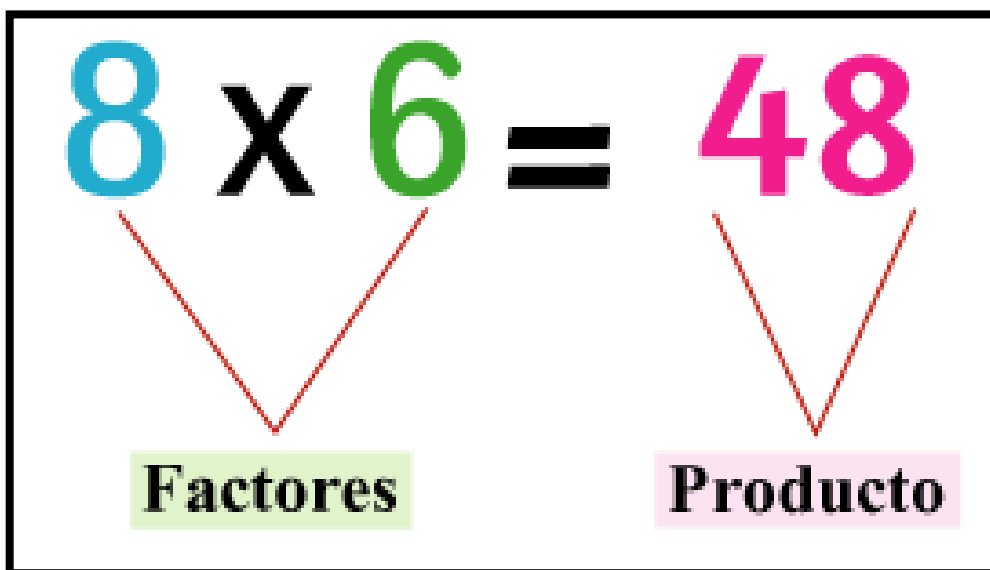
b. En una oficina se compraron 8 cajas con 25 lápices (L) cada una ¿Cuántos lápices se compraron en total?



25 L 25 L 25 L 25 L 25 L 25 L 25 L 25 L

R. _____

¡Recuerda los elementos de la multiplicación!



Explicación: ¡El paso a paso de la división!

<p>Paso 1 Considera el dígito de mayor valor posicional del dividendo para comenzar a dividir, en este caso, 4. Si es menor que el divisor, considera además el siguiente dígito.</p>	<p>Paso 2 Encuentra el número que multiplicado por el divisor tenga el valor más cercano (menor) o igual al considerado en el paso 1.</p>
<p>Paso 3 Se calcula el producto entre el número obtenido en el paso 2 y el divisor, y se resta a lo considerado del dividendo. En este caso se obtiene 1.</p>	<p>Paso 4 Baja el dígito siguiente del dividendo (5) para formar un nuevo número con la resta obtenida en el paso 3. En este caso, 15.</p>
<p>Paso 5 Se repiten los pasos 2, 3 y 4 hasta usar todos los dígitos del dividendo.</p>	

	4	5	:	3	=	1	5
-	3						
	1	5					
-	1	5					
	0	0					

Vamos con otro ejemplo:

Ejemplo:


Recuerda que dividir es siempre repartir una cantidad en partes iguales. "Inés tiene \$812 y quiere dar a cada uno de sus 3 hijos la misma cantidad. ¿Cuántos recibirá cada uno?"

$$\begin{array}{r}
 8'1'2' : 3 = 270 \\
 \underline{-6} \\
 21 \\
 \underline{-21} \\
 02 \\
 \underline{-0} \\
 2
 \end{array}$$


Recuerda apoyarte en la tabla Pitagórica en caso de que lo requieras

1.- Resuelve las siguientes divisiones:


a. $32 : 2 =$



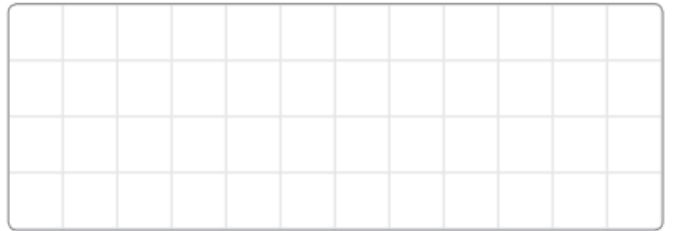
c. $834 : 3 =$



b. $92 : 4 =$



d. $712 : 2 =$



2.- Resuelve los siguientes problemas:

a. Elisa debe repartir 12 kilos (k) de pan en 3 supermercados, si debe hacerlo en cantidades iguales. ¿Cuántos kilos de pan recibirá cada supermercado?



1k 2k 3k 4k 5k 6k 7k 8k 9k 10k 11k 12k

R. _____

b. Paula trabaja en un supermercado y debe repartir equitativamente 20 litros de leche en 4 estantes. ¿Cuántos litros de leche repartirá a cada estante?



R. _____

¡Recuerda los elementos de la división!

Dividendo			Divisor					
	6	8	:	4	=	1	7	} Cociente
-	4							
	2	8						
-	2	8						
	0	0	//					

¡Mucho éxito!