

7° A	<a href="mailto:valentina.arevalo@colegio-eduardodegeyter.cl">valentina.arevalo@colegio-eduardodegeyter.cl</a>
7° B	<a href="mailto:elizabeth.vergara@colegio-eduardodegeyter.cl">elizabeth.vergara@colegio-eduardodegeyter.cl</a>

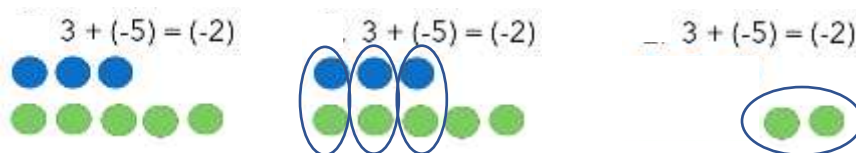
GUIA DE TRABAJO

En la presente guía encontraras diferentes ejercicios que deberás realizar aplicando las estrategias enseñadas en el guion metodológico. Recuerda que una vez realizada la guía en tu cuaderno debes enviar la resolución para poder revisar y retroalimentar tus errores.

- I. **Fichas de color por cancelación:** resuelve las siguientes adiciones y sustracciones utilizando el método de las fichas bicolor.

Ejemplo:

*Las fichas de color azul representan los números positivos y las verdes los negativos.*



Resuelve los siguientes ejercicios:

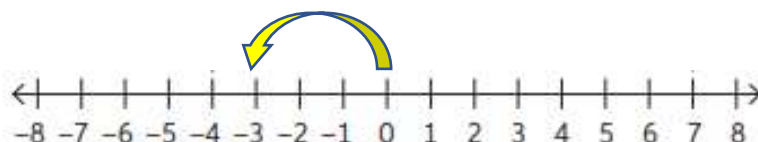
$9 + (-5)$	$(-10) + 7$
$6 + (-6)$	$5 + 4$

- II. **Recta numérica:** resuelve las siguientes adiciones y sustracciones utilizando la recta numérica.

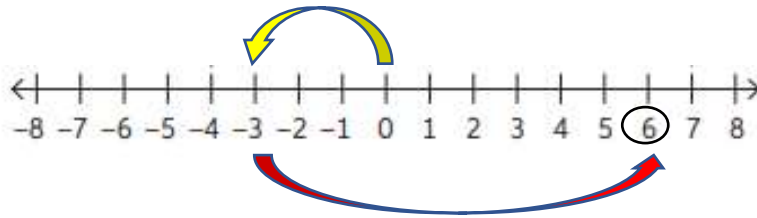
Ejemplo:

$$(-3) + 9$$

1. Primero representamos el número (-3)

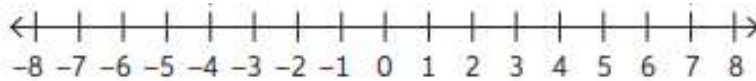


2. Luego representamos el número 9:

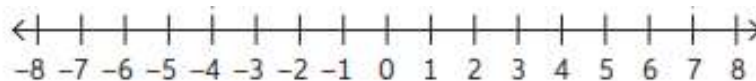


Resuelve los siguientes problemas matemáticos:

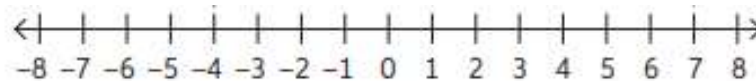
**“Juan tiene 7 láminas y pierde 3 ¿Cuántas laminas tiene ahora?”**



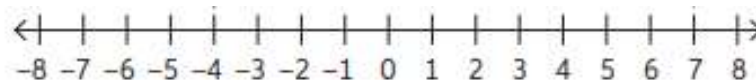
**“Manuel debía 5 kilos de harina pero compro 7 kilos de harina en el supermercado ¿Con cuantos kilos de harina se quedó Manuel?”**



**“Joaquín tiene 3 billetes de mil en su cuenta del banco, si compra una polera que le cuesta 8 billetes de mil y le pide prestado a su amigo ¿Cuánto dinero le queda debiendo Joaquín a su amigo?”**



**“Sara le debe 8 lápices a Josefina, si compra 10 lápices en el almacén de la esquina ¿Con cuántos lápices se queda Sara finalmente?”**



**¡Éxito en tu tarea!**

