

## Guía de trabajo

En la presente guía de trabajo deberás responder los ejercicios aplicando lo visto en el video adjunto en las instrucciones de la guía ¡Mucho éxito, tú puedes!

- I. **Explicación del concepto:** Después de haber visualizado el video, explica con tus propias palabras ¿Qué son los números enteros? (no puedes utilizar la definición entregada en la guía de trabajo)

Números enteros:

---



---



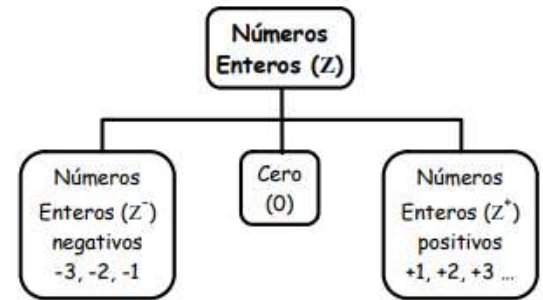
---



---

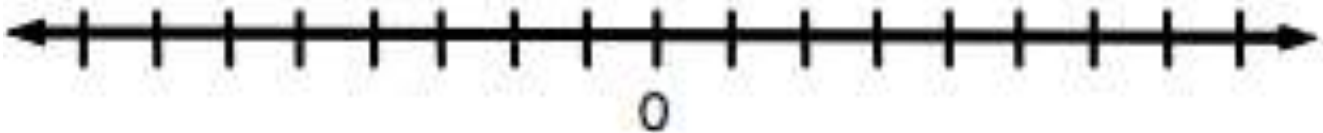


---

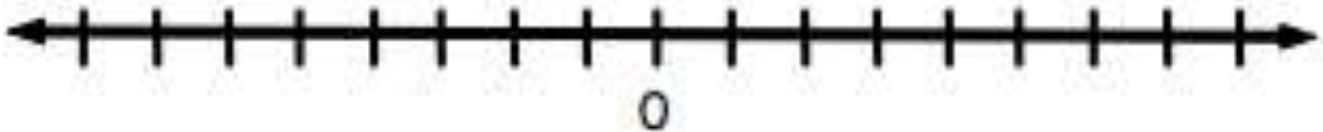


- II. **Ubicación en la recta numérica:** Ubica en la recta numérica los números que se indican. Recuerda que la distancia entre los números debe ser la misma, guíate por el ejemplo del video.

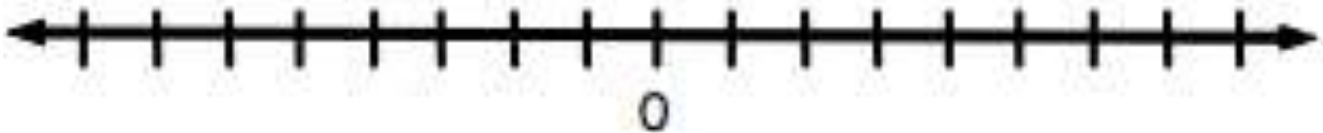
- a) Número 10 y -10.



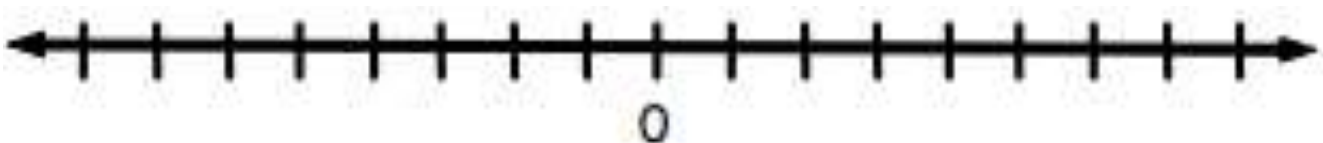
- b) Número 4 y -4.



- c) Número 8 y -8.

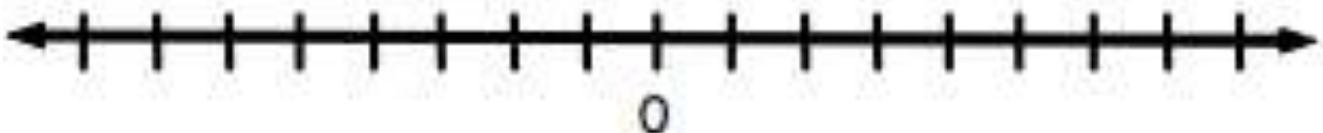


- d) Número 1 y -1.

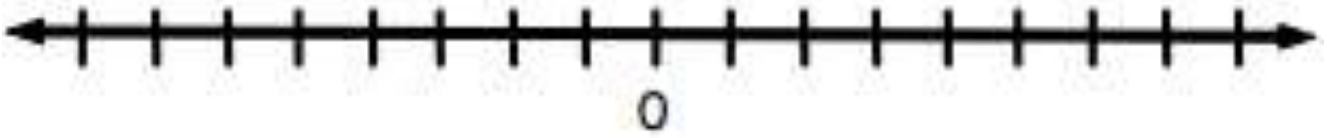


- III. **Adición y sustracción de números enteros:** Utilizando la recta numérica resuelve las siguientes operaciones.

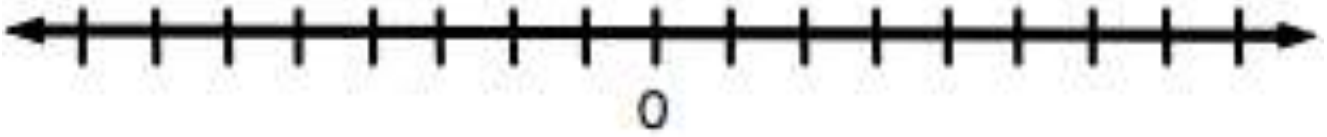
- a)  $-5 + 3$



b)  $-7 + 1$



c)  $3 + 4$



d)  $-3 + -1$

