



Correo profesora Valentina.arevalo@colegio-educardodegeyter.cl

“FUNCIONES”

INSTRUCCIONES: Resuelve los siguientes problemas matemáticos a partir de la definición y los ejemplos desarrollados en la guía de aprendizaje.

- “Miguel vende automóviles. Su sueldo fijo mensual es de 220.000, y por cada unidad vendida recibe una comisión de 35.000 pesos ¿Cuál es el sueldo de Miguel si vende 9 automóviles durante el mes? ¿Cuál es la expresión que modela la situación?”

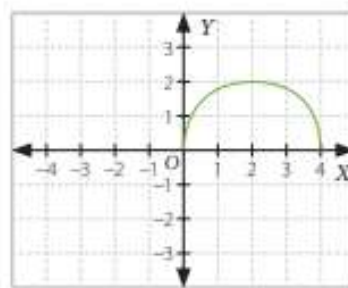
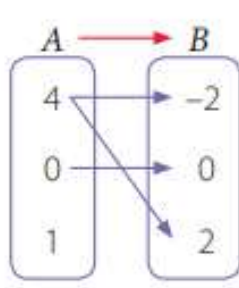
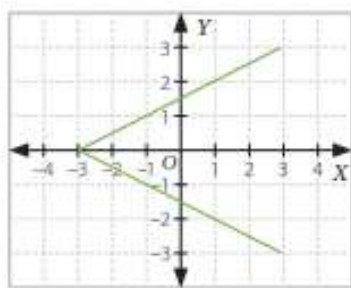
1. Construcción de la tabla → completa la tabla según la información entregada por el problema.

Cantidad de autos vendidos	Sueldo
1	$220.000 + 35.000 = 255.000$
2	$220.000 + 35.000 \times 2 = 290.000$
3	
4	
5	
6	
7	
8	
9	

2. Función →

3. Sueldo al vender 9 automóviles →

- “¿Cuál de las siguientes representaciones corresponde a una función? Justifica tu respuesta”



¿Es una función? _____

¿Es una función? _____

¿Es una función? _____

JUSTIFICACION:

JUSTIFICACION:

JUSTIFICACION: